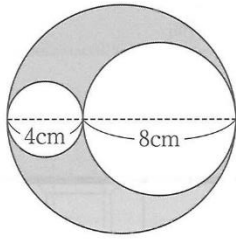


# 宮崎西中 第4回定期テスト対策 復習問題 数学編

## 【中1数学より】

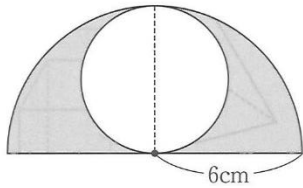
次の図の影をつけた部分の周の長さ<sup>かけ</sup>と面積を求めなさい。

(1)



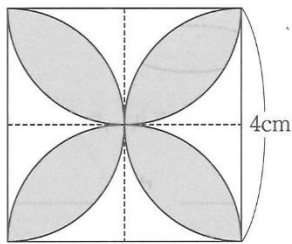
周 ..... 面積 .....

(2)



周 ..... 面積 .....

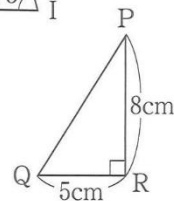
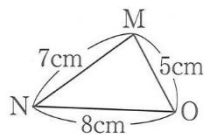
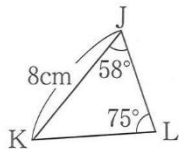
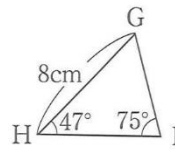
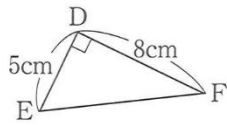
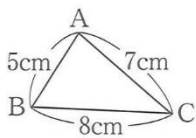
(3)



周 ..... 面積 .....

## 【中2数学より】

次の三角形のうち、合同なものを見つけ、記号≡を使って表しなさい。また、そのとき使った合同条件をいいなさい。



合同な三角形の組

合同条件

.....

.....

.....